



مہاراشٹر وڈیا پرا دھیکرن، پونے ۳۰
تعلیمی ترقی یافتہ مہاراشٹر

تعلیمی ترقی جانچ - مجموعی قدر پیمائی ۲ : ۱۸-۲۰۱۷ء جماعت : سوم - مضمون : ریاضی (تحریری)

طالب علم کا نام : حاضری نمبر

مدرسہ کا نام : فریق :

مرکز : تعلقہ ضلع تاریخ : / / ۲۰۱۸ء

دستخط معلم	حاصل کردہ نمبرات			عملی/زبانی	تحریری					
	کل نمبرات	جماعت کی صلاحیت	بنیادی صلاحیت		۱	۲	۳	۴	۵	
										سوال نمبر
										حاصل کردہ نمبرات
	۴۰			۱۰	۶	۶	۶	۶	۶	مختص نمبرات

تمام سوالوں کو حل کیا جائے۔ ہر ضمنی سوال کے لیے ایک نمبر ہے۔

س ۱ الف) ہندسوں میں لکھو۔

$$\boxed{} = \text{بیاسی}$$

ب) لفظوں میں لکھو۔

$$\dots\dots\dots = ۲۱$$

ج) توسیعی صورت میں لکھو۔

$$۲۵ = \boxed{} + ۵$$

مجموعی قدر پیمائی ۲ : ۱۸-۲۰۱۷ء - جماعت : سوم - مضمون : ریاضی : (1)

تفریق کرو۔ (ہ)

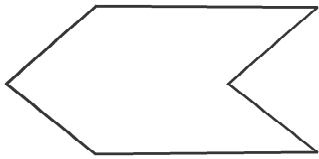
د	ا
۶	۷
-	
ا	۳

جمع کرو۔ (و)

د	ا
۲	۵
+	
ا	۳

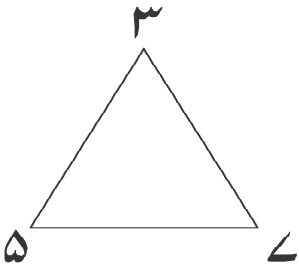
(و) عرس میں جاتے وقت مجھے امی نے ۱۵ روپے اور ابا نے ۲۰ روپے دیے۔ اب میرے پاس کتنے روپے ہوں گے؟

(س ۲ الف) تصویر کے کناروں کی تعداد گن کر لکھو۔



کناروں کی تعداد =

(ب) دیے ہوئے عددی گروہ کے ہر ہندسے کو ایک مرتبہ استعمال کر کے تین ہندسی بڑے سے بڑا عدد تیار کر کے لکھو۔



(ج) دودھناپنے کی معیاری اکائی کے اطراف دائرہ بناؤ۔

میٹر لٹر گرام منٹ

(د) میرے پاس کُل ۱۲۵ روپے ہیں۔ اس میں ۱۰۰ روپے کی ایک نوٹ ہے اور ۵ روپے کا ایک سکہ ہے۔ باقی ۱۰ روپے کے نوٹ ہیں تو میرے پاس ۱۰ روپے کے کتنے نوٹ ہیں؟

۱۰ روپے کے نوٹ

(ه) جمع کرو۔

س	د	ا
۴	۲	۳
+		
۱	۷	۵


(و) ضرب کرو۔

$$\begin{array}{r} ۶ \\ \times ۴ \\ \hline \end{array}$$

(س ۳ الف) عددی تواتر کو مکمل کرو۔

۱۰×۲	۲۰×۲	۳۰×۲	۴۰×۲	
---------------	---------------	---------------	---------------	--

(ب) ذیل کی شکل متشکل ہونے کے لیے مناسب مقام پر خط کھینچو۔



تفریق کرو۔

س	د	ا
۷	۱	۴
—		
۳	۵	۸

(د)

جمع کرو۔

س	د	ا
۴	۶	۸
+		
۲	۵	۷

(ج)

(د) ایک باغ میں ۴۸۵ آم کے درخت، ۱۴۰ انیم کے درخت اور ۲۶۰ اہلی کے درخت ہیں تو کل کتنے درخت ہیں؟

(ه) لائبریری میں کہانیوں کی ۴۷۹ کتابیں اور نظموں کی ۸۵ کتابیں ہیں تو لائبریری میں کہانیوں کی کتابیں، نظموں کی کتابوں سے کتنی زیادہ ہیں؟

س ۳ الف) سیٹھ = دہائی ۲ × دہائی ۳

ب) ضرب کرو۔

س	د	ا
	۴	۶
	×	۷

ج) شبانہ کی پیدائش ۲۸/۱۱/۲۰۱۰ء کو ہوئی تو ۲۰۱۷ء میں اس کی کون سی سالگرہ منائی گئی؟

د) تقسیم کرو۔

$$\begin{array}{r} 30 \\ 2 \overline{) 30} \end{array}$$

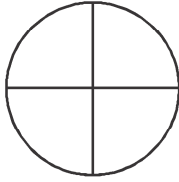
ذیل کا کیلنڈر دیکھو اور پوچھے ہوئے سوال کا جواب لکھو۔ (6)

اپریل ۲۰۱۷ء						
اتوار	پیر	منگل	بدھ	جمعرات	جمعہ	سنپچر
۳۰						۱
۲	۳	۴	۵	۶	۷	۸
۹	۱۰	۱۱	۱۲	۱۳	۱۴	۱۵
۱۶	۱۷	۱۸	۱۹	۲۰	۲۱	۲۲
۲۳	۲۴	۲۵	۲۶	۲۷	۲۸	۲۹


پہلا اتوار کس تاریخ کو ہے؟

(6) ۸ لڈو رکھنے کے لیے ایک باکس کے حساب سے ۵۶ لڈو کے لیے کتنے باکس درکار ہوں گے؟


س ۵ الف) دی ہوئی شکل کے پاؤ حصے میں رنگ بھرو۔



ب) ذیل کے گروہ میں دی گئی چیزوں کے آدھے حصے میں رنگ بھرو۔




ج) ذیل کی گھڑی میں دکھائی دینے والے وقت کو گھنٹے اور منٹ میں لکھو۔



گھڑی میں بج کر منٹ ہوئے ہیں۔

د) ۵ بج کر ۲۰ منٹ پر گھڑی کی سوئیوں کی حالت کس طرح ہوگی؟ گھڑی میں دکھاؤ۔



ه) اور و) کے لیے ہدایت - باغ میں پھول کے درخت بتانے والی جدول ذیل میں دی ہوئی ہے۔ اس کی مدد سے سوالوں کے جواب خالی چوکون میں لکھو۔

پھول کے نام	پھول کے پودوں کی تعداد
چنبیلی	
گلاب	
موگرا	

ه) گلاب کے درختوں سے چنبیلی کے درخت کتنے زیادہ ہیں؟

و) باغ میں پھول کے کل کتنے درخت ہیں؟

