



مہاراشٹر وڈیا پرا دھیکرن، پونے ۳۰
تعلیمی ترقی یافتہ مہاراشٹر

تعلیمی ترقی جانچ - مجموعی قدر پیمائی ۲: ۱۸-۲۰۱۷ء جماعت: اوّل - مضمون: ریاضی (تحریری)

طالب علم کا نام: حاضری نمبر

مدرسہ کا نام: فریق:

مرکز: تعلقہ ضلع تاریخ: / / ۲۰۱۸ء

دستخط معلم	حاصل کردہ نمبرات			عملی/زبانی	تحریری					
	کل نمبرات	جماعت کی صلاحیت	بنیادی صلاحیت		۱	۲	۳	۴	۵	
										سوال نمبر
										حاصل کردہ نمبرات
	۳۰			۱۰	۴	۴	۴	۴	۴	مختص نمبرات

تمام سوالوں کو حل کیا جائے۔ ہر ضمنی سوال کے لیے ایک نمبر ہے۔
س ۱ الف) دو تصویروں کو رنگین کرو۔



ب) بڑے عدد کے گرد دائرہ بناؤ۔

۷ ۳

ج) خالی چوکون میں مناسب عدد لکھو۔

آگے کا عدد	پچھ کا عدد	پچھے کا عدد
	۹	۸


مجموعی قدر پیمائی ۲: ۱۸-۲۰۱۷ء : جماعت - اوّل : مضمون - ریاضی (تحریری) : (1)

(د) تصویریں گن کر صحیح عدد کے گرد دائرہ بناؤ۔



۵ ۶ ۷ ۴

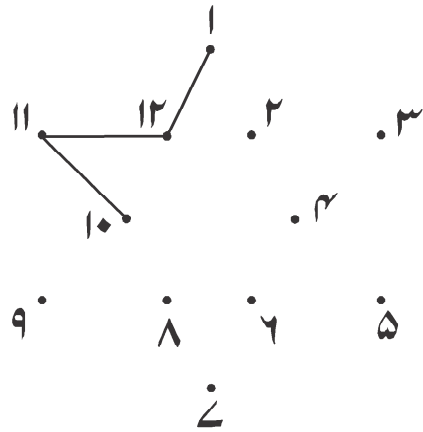
(س ۲ الف) چیزوں کو ایک دوسرے سے جوڑو۔ ایک جیسی چیزوں والی تصویر کے چوکون میں ✓ کا نشان لگاؤ۔



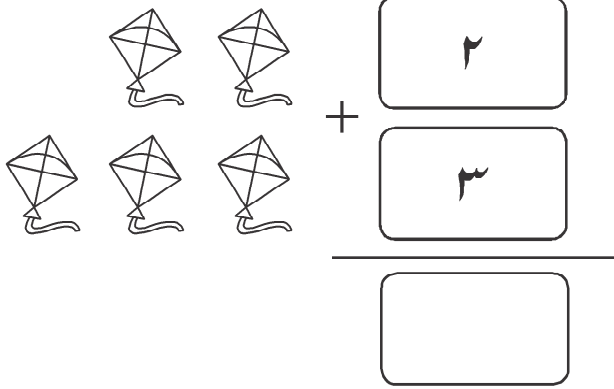
(ب) جمع کرو۔

$$1 + 2 = \boxed{}$$

(ج) عددوں کو ترتیب سے جوڑ کر نقشہ مکمل کرو۔

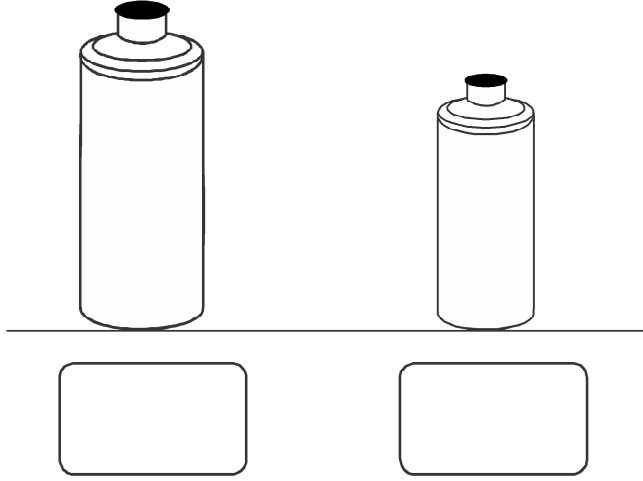


Maths (Urdu) - Std. 1st - Student Copy



جمع کرو۔ (د)

س ۳ الف) پانی کی اونچی بوتل کے نیچے چوکون میں ✓ نشان لگاؤ۔



ب) دیے ہوئے عدد کے فوراً پیچھے (پہلے) کا عدد لکھو۔

۱۷	۱۶	
----	----	--

ج) چھوٹے عدد کے گرد دائرہ بناؤ۔

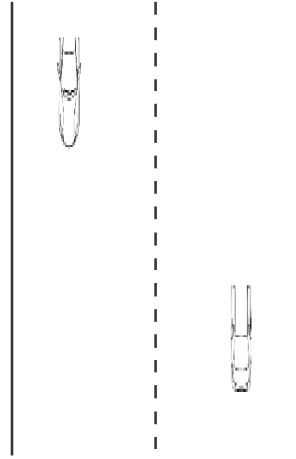
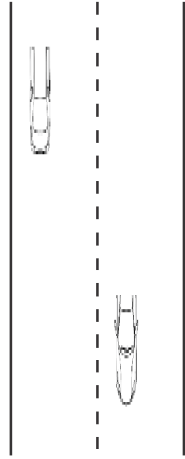
۱۶ ۱۲

د) ہار کے پتے گن کر جمع کرو۔

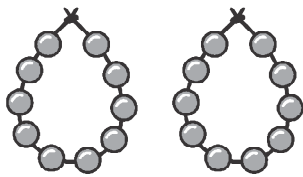


$$۱۲ + ۳ = \boxed{}$$

س ۴ الف) چوڑے راستے کے نیچے چوکون میں ✓ نشان لگاؤ۔



ب) دہائی کی مالا اور کھلے موتیوں کو گن کر عدد لکھو۔

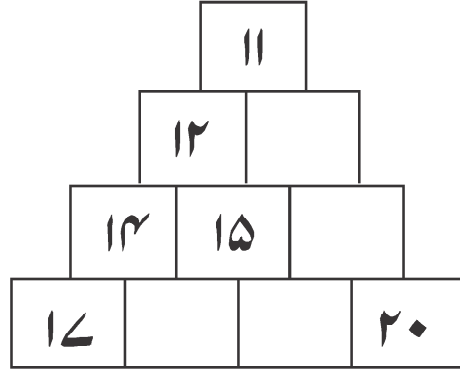


دہائی	اکائی

(ج) تفریق کر کے دائرے میں مناسب عدد لکھو۔

$$\begin{array}{r} \boxed{6} \\ - \boxed{4} \\ \hline \boxed{} \end{array}$$

(د) مینار میں چوکون میں مناسب اعداد لکھو۔



(س ۵ الف) چوکون میں مناسب عدد لکھ کر تفریق کرو۔


$$\begin{array}{r} \boxed{} \\ - \boxed{} \\ \hline \boxed{} \end{array}$$

روحی کے ڈبے میں چھ لڈو تھے۔


اس میں سے تین لڈو کھالیے۔

روحی کے ڈبے میں باقی لڈو۔

(ب) تو اتر کو ذہن میں رکھ کر خالی جگہ مناسب شکل بناؤ۔



ہدایت : سوال (ج) اور (د) کے لیے ذیل کے چوکون میں تصویریں دیکھ کر جواب لکھو۔



(ج) اوپر کے چوکون میں کتنے کپ ہیں؟



(د) اوپر کے چوکون میں دیے گئے گیند کی تعداد لکھو۔

