

# दूसरी – गणित (हिंदी माध्यम)



महाराष्ट्र विद्या प्राधिकरण, पुणे ३०.

प्रगत शैक्षणिक महाराष्ट्र

शैक्षणिक प्रगति कसौटी : संकलित मूल्यमापन २ : २०१७-१८

कक्षा : दूसरी – विषय : गणित (लिखित)

विद्यार्थी का नाम : \_\_\_\_\_ उपस्थिति क्रमांक :


विद्यालय का नाम : \_\_\_\_\_ वर्ग : \_\_\_\_\_

केंद्र : \_\_\_\_\_ तहसील \_\_\_\_\_ जिला \_\_\_\_\_ दिनांक : / / २०१८

प्रश्न क्रमांक	१	२	३	४	५	प्रात्य./मौखिक	प्राप्त अंक			शिक्षक के हस्ताक्षर
प्राप्तांक							मूलभूत क्षमता	कक्षा की क्षमता	कुल	
अधिकतम अंक	४	४	४	४	४	१०			३०	

सभी प्रश्न हल करो। प्रत्येक उपप्रश्न के लिए एक अंक है।

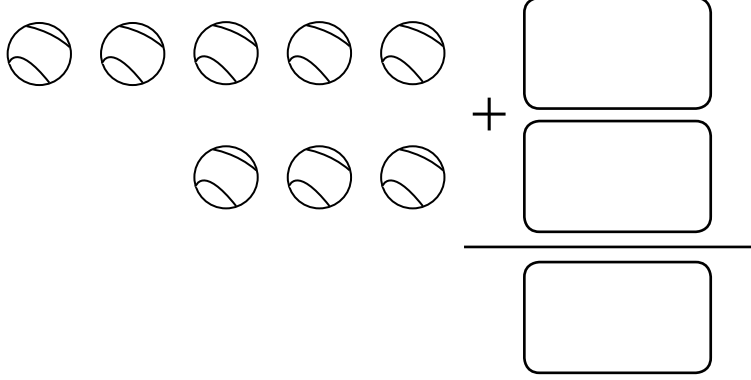
प्र. १ अ) चित्र गिनकर चौखट में योग्य संख्या लिखो।



ब) बीच की संख्या लिखो।


५		७
---	--	---

क) चित्र देखकर जोड़ का उदहारण तैयार करके हल करो ।



ड) दी गई संख्या को क्रम से लिखो ।

५ , २ , ४ , ३ , ६



प्र. २ अ) संख्या अक्षरों में लिखो ।

१८ \_\_\_\_\_

ब) संख्या अंकों में लिखो ।



तेईस

क) छोटी संख्या को गोल करो ।

४५ , ५४

ड) असंगत शब्द को काटो ।

सेबों की अपेक्षा आमों की संख्या २ से कम/अधिक है ।



प्र. ३ अ) जोड़ो ।

दहाई	इकाई
६	३
+	
१	२

ब) जोड़ो ।

दहाई	इकाई
४	७
+	
१	५

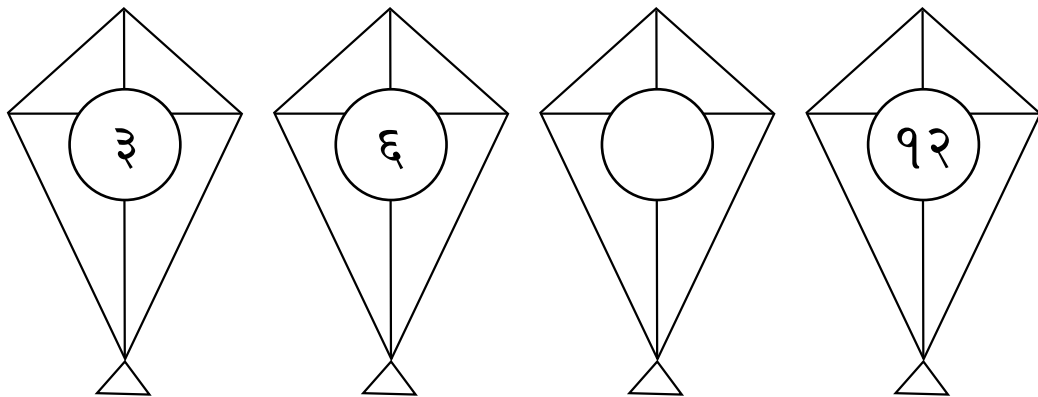
क) घटाओ ।

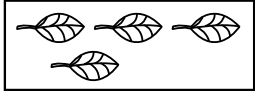
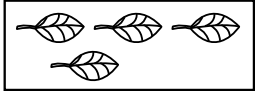
दहाई	इकाई
७	४
-	
५	०

ड) घटाओ ।

दहाई	इकाई
१	७
-	
	८

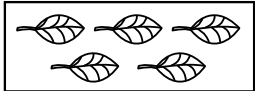
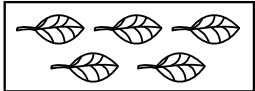
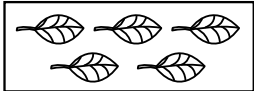
प्र. ४ अ) संख्याओं की आकृतिबंध पूर्ण करो ।



ब)   = ४ × २


४                      ४

इस आधार पर चौखट में उचित संख्या लिखो ।

   = ५ ×

५                      ५                      ५

क) चित्र में त्रिभुजों की कुल संख्या लिखो ।



त्रिभुजों की संख्या =

ड) आगे की आकृतिबंध पूर्ण करो ।

○ ○	○○ ○○	○○○ ○○○	○○○○○ ○○○○○
--------	----------	------------	----------------

प्र. ५ अ) वस्तु की कीमत के अनुसार योग्य नोट हो तो चौखट में ✓ चिह्न लगाओ ।



ब) नीचे की संख्या को घटते क्रम में लिखो ।

२४ , ८३ , ३५

,  ,

क) एक किले में ६३ सीढ़ियाँ हैं। उसमें से उमा ने ३४ सीढ़ियाँ चढ़ी, तो अभी वह कितनी सीढ़ियाँ चढ़कर किले में पहुँचेगी ?

दहाई	इकाई

ड) क्रिकेट के एक मैच में विराट ने ५१ रन बनाए तथा शिखर ने १९ रन बनाए, तो दोनों ने मिलकर कुल कितने रन बनाए?

दहाई	इकाई

