

पहिली - गणित (मराठी माध्यम)



महाराष्ट्र विद्या प्राधिकरण, पुणे ३०.

प्रगत शैक्षणिक महाराष्ट्र

शैक्षणिक प्रगती चाचणी : संकलित मूल्यमापन २ : २०१७-१८

इयत्ता : पहिली - विषय : गणित (लेखी)

विद्यार्थ्यांचे नाव : _____ हजेरी क्रमांक :

शाळेचे नाव : _____ तुकडी : _____

केंद्र : _____ ता. _____ जि. _____ दिनांक : / / २०१८

प्रश्न क्रमांक	१	२	३	४	५	प्रात्य./तोंडी	प्राप्त गुण			शिक्षक स्वाक्षरी
							मूलभूत क्षमता	इयत्तेच्या क्षमता	एकूण	
प्राप्त गुण										
कमाल गुण	४	४	४	४	४	१०		३०		

सर्व प्रश्न सोडवावेत. प्रत्येक उपप्रश्नास एक गुण आहे.

प्र. १ अ) दोन चित्रे रंगव.




ब) मोठ्या संख्येभोवती गोल कर.

3 6

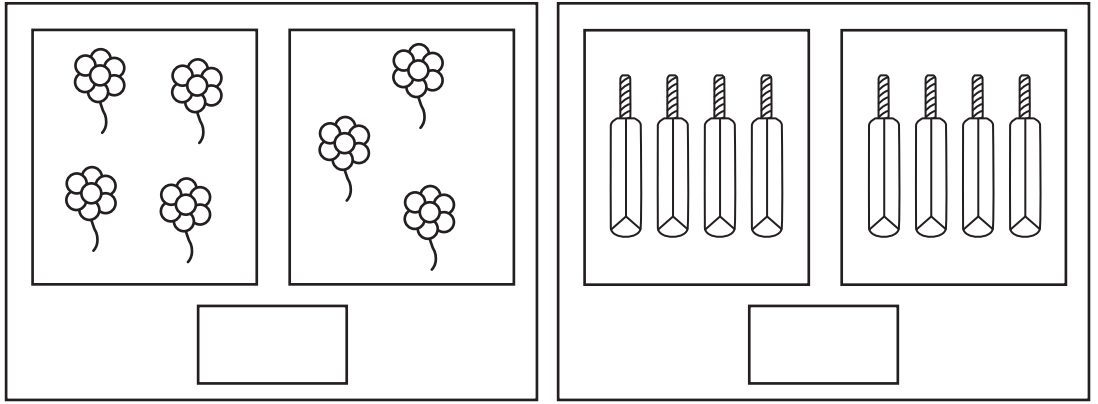
क) रिकाम्या चौकटीत योग्य ती संख्या लिही.

मागची संख्या	मधली संख्या	पुढची संख्या
८	९	

ड) चित्रे मोजून योग्य संख्येभोवती गोल कर.



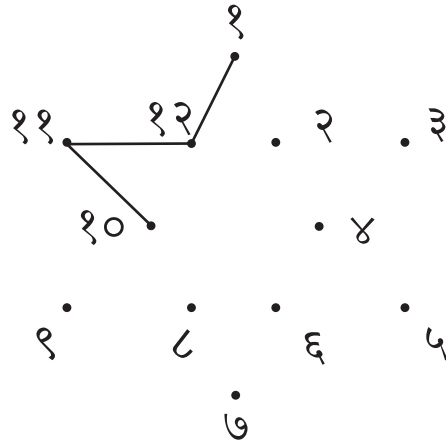
प्र. २ अ) एकास एक जोडी लावून समान वस्तू असणाऱ्या चित्राखालील चौकटीत ✓ खूण कर.



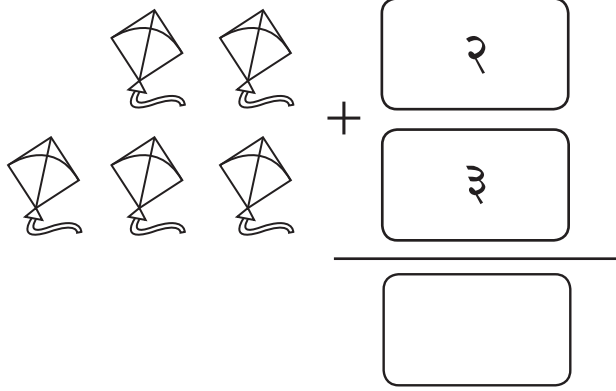
ब) बेरीज कर.

$$१ + २ = \boxed{}$$

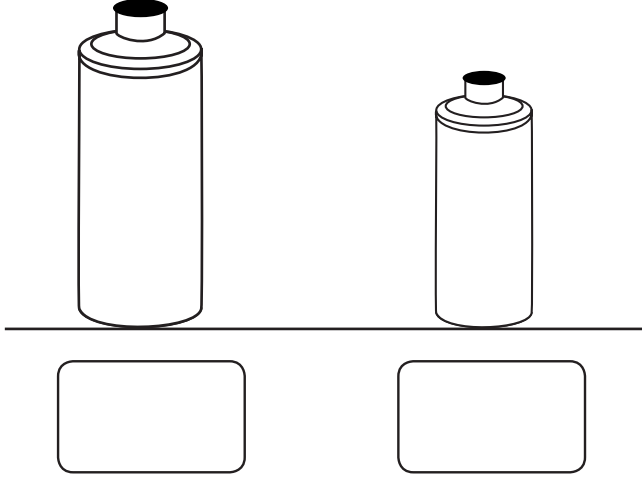
क) अंक क्रमाने जोडून रांगोळी पूर्ण कर.



ड) बेरीज कर.



प्र. ३ अ) पाण्याच्या उंच बाटलीखालील चौकटीत ✓ खूण कर.




ब) दिलेल्या संख्येच्या लगतची मागची संख्या लिही.

	१६	१७
--	----	----

क) लहान संख्येभोवती गोल कर.

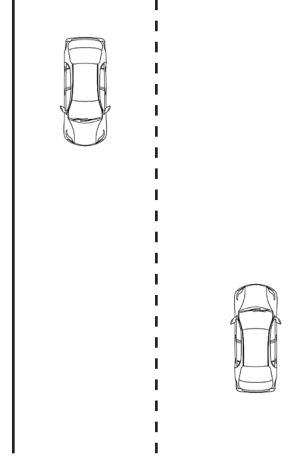
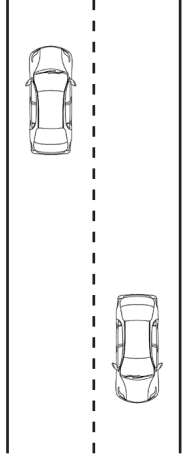
१६ १२

ड) तोरणातील पाने पुढे मोजून बेरीज कर.

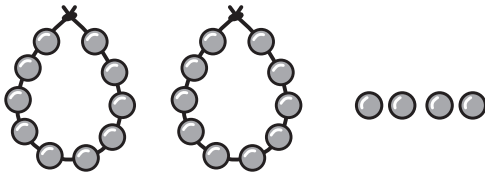


$$१२ + ३ =$$

प्र. ४ अ) अरुंद रस्त्याखालील चौकटीत ✓ खूण कर.



ब) दशकमाळ व सुटे मणी मोजून संख्या लिही.

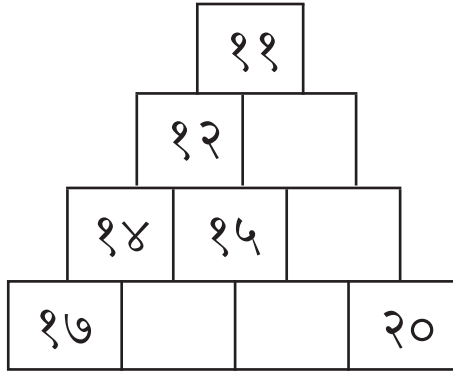


दशक	एकक

क) वजाबाकी करून चौकटीत योग्य संख्या लिही.

$$\begin{array}{r} \boxed{9} \\ - \quad \boxed{4} \\ \hline \boxed{} \end{array}$$

ड) मनोऱ्यातील चौकटीत योग्य ते अंक लिही.




प्र. ५ अ) चौकटीत योग्य संख्या लिहून वजाबाकी कर.

सईच्या डब्यात सहा लाडू होते.


त्यांपैकी तिने दोन लाडू खाल्ले.

सईच्या डब्यातील उरलेले लाडू.

ब) आकृतिबंध लक्षात घेऊन रिकाम्या चौकटीत योग्य ती आकृती काढ.



सूचना - प्रश्न 'क' आणि 'ड' साठी खालील चौकटीतील चित्रे पाहून उत्तरे लिही.



क) वरील चौकटीत किती कप आहेत?



ड) वरील चौकटीतील चेंडूंची संख्या लिही.

