

## Class 2nd- Maths (Bengali Medium)



মহারাষ্ট্র রাজ্য শৈক্ষণিক সংশোধন ও প্রশিক্ষণ পরিষদ, (বিদ্যা প্রাধিকরণ) পূণে ৩০  
প্রগত শৈক্ষণিক মহারাষ্ট্র  
শৈক্ষণিক প্রগতি মূল্যায়ন : সংকলিত মূল্যমাপন ২ : ২০১৭-১৮  
দ্বিতীয় শ্রেণী বিষয় : গণিত

ছাত্রের নাম :- \_\_\_\_\_ রোল নং:-


বিদ্যালয়ের নাম :- \_\_\_\_\_ তারিখ :- / / ২০১৮

কেন্দ্র :- \_\_\_\_\_ তহসিল :- \_\_\_\_\_ জেলা :- \_\_\_\_\_

	লেখী					প্রা./মৌ.	মোট	শিক্ষক হস্তাক্ষর
প্রশ্ন ক্রমসং	১	২	৩	৪	৫			
প্রাপ্ত মান								
পূর্ণ মান	৪	৪	৪	৪	৪	১০	৩০	

সকল প্রশ্ন সমাধান কর , প্রত্যেক উপপ্রশ্নের জন্য এক মান ।

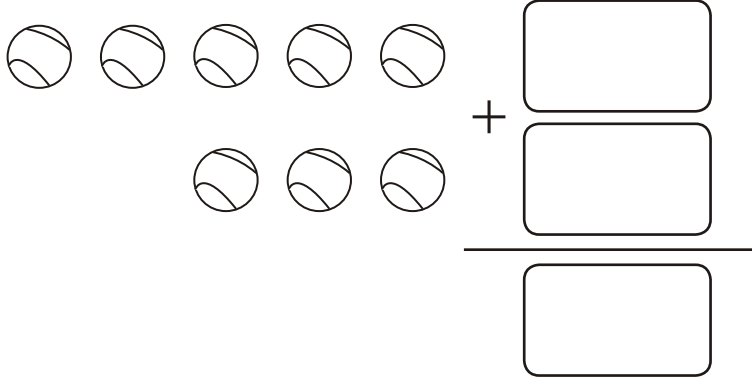
প্র . ১ অ) ছবি গণনা করে ছকে সঠিক সংখ্যা লেখ ।



ব) মাঝের সংখ্যা লেখ ।


৫		৭
---	--	---

ক) ছবি দেখে যোগের উদাহরণ তৈরী করে সমাধান কর ।



ড) সংখ্যা গুলি ক্রমানুসারে লেখ ।

৫ , ২ , ৪ , ৩ , ৬



প্র . ২ অ) সংখ্যা অঙ্করে লেখ ।

১৮ \_\_\_\_\_

ব) সংখ্যা অংকে লেখ ।



তেইস

ক) ছোট সংখ্যাটিকে গোল কর ।

৪৫ , ৫৪

ড) ভুল শব্দটি কেটে দাও ।

আপেল ইহঁতে আমের সংখ্যা ২টি ( কম / বেশী ) আছে ।



প্র . ৩ অ) যোগ কর ।

দশক	একক
৬	৩
+	
১	২

ব) যোগ কর ।

দশক	একক
৪	৭
+	
১	৫

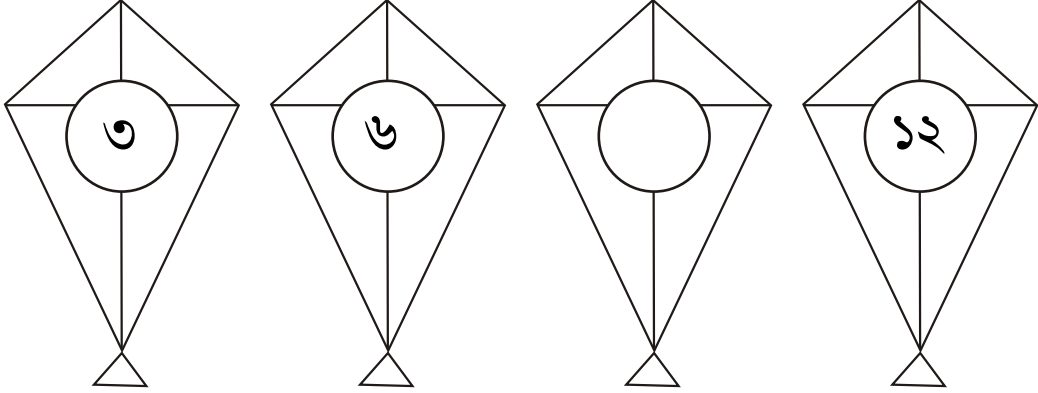
ক) বিয়োগ কর ।

দশক	একক
৭	৪
-	
৫	০

ড) বিয়োগ কর ।

দশক	একক
১	৭
-	
	৮

প্র . ৪ অ) সংখ্যার আকৃতিবন্ধ পূর্ণ কর ।




ব) = ৪ X ২

এই ভাবে ছকে সঠিক সংখ্যা লেখ ।

= ৫ X

ক) নীচের ছবিতে মোট কতগুলি ত্রিভুজ আছে তাহা লেখ ।



ত্রিভুজের সংখ্যা =

ড) নীচের আকৃতিবন্ধ পূর্ণ কর ।

○ ○	○○ ○○	○○○ ○○○	○○○○○ ○○○○○
--------	----------	------------	----------------

প্র . ৫ অ) বস্তুর মূল্য অনুসারে উচিত মূল্যের ছকে এই ✓ চিহ্ন দাও ।

৩০ টাকা = 

১৫ টাকা = 

ব) নীচের সংখ্যা গুলি অবরোহী ক্রমে (অধ:ক্রমে) লেখ ।

২৪ , ৮৩ , ৩৫

,  ,

ক) একটি দুর্গে ৬৩টি সিঁড়ি আছে । তার থেকে উমা ৩৪টি সিঁড়ি চড়ল । তাহলে তাকে দুর্গে চড়তে আর কত সিঁড়ি শেষ রইল ।

দশক	একক

ড) এক ক্রিকেট প্রতিযোগিতায় বিরাট ৫১ রান করল ও শেখর ১৯ রান করল তাহলে দুজনে মিলে মোট কত রান করল ?

দশক	একক

