

संच : ब

दुसरी - गणित (मराठी माध्यम)



महाराष्ट्र विद्या प्राधिकरण, पुणे ३०.

प्रगत शैक्षणिक महाराष्ट्र

शैक्षणिक प्रगती चाचणी

पायाभूत चाचणी २०१७-१८ : इयत्ता - दुसरी

विषय : गणित (लेखी)

विद्यार्थ्यांचे नाव : _____

शाळेचे नाव : _____ दिनांक : / / २०१७

केंद्र : _____ ता. _____ जि. _____ प्राप्त गुण :

हजेरी क्रमांक : तुकडी : _____ शिक्षकांची स्वाक्षरी _____ लेखी गुण :

प्रत्येक उपप्रश्नास एक गुण आहे. सर्व प्रश्न सोडवावेत.

प्र. १ अ) संख्या अंकात लिही.

$$१ \text{ दशक } ७ \text{ एकक} = \boxed{}$$

प्र. १ ब) चौकटीत मागची व पुढची संख्या लिही.

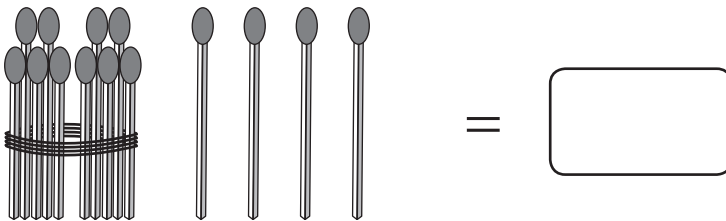
	८	
--	---	--

प्र. १ क) मोठ्या संख्येभोवती गोल कर.

१९

१२

प्र. १ ड) काड्यांची संख्या लिही.



पायाभूत चाचणी २०१७-१८ : इयत्ता - दुसरी : विषय - गणित : (१)

संच : ब

प्र. १ इ) कुंडीत किती झाडे आहेत?



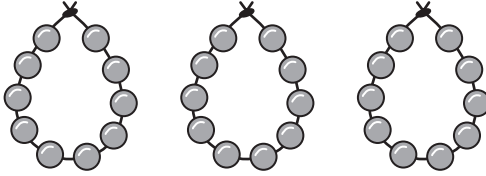
प्र. १ फ) चौकटीत योग्य संख्या लिही.

१४	१५	१६		१८
----	----	----	--	----

प्र. १ ग) चित्रे मोज. संख्या लिही.



प्र. १ ह) प्रत्येक माळेत १० मणी आहेत तर मण्यांचे किती दशक आहेत ते लिही.


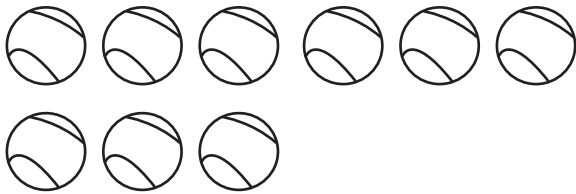


=




दशक

प्र. २ अ) चित्रे मोज. संख्या लिही आणि बेरीज कर.



+



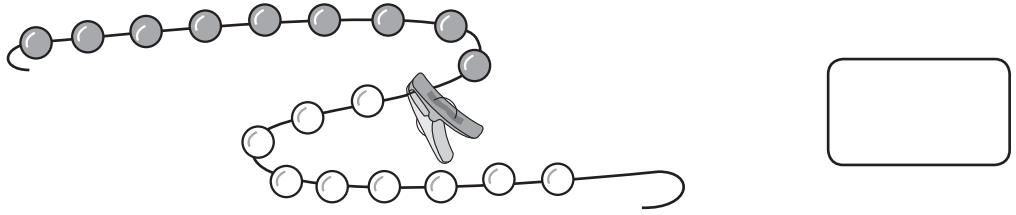
पायाभूत चाचणी २०१७-१८ : इयत्ता - दुसरी : विषय - गणित : (२)

संच : ब

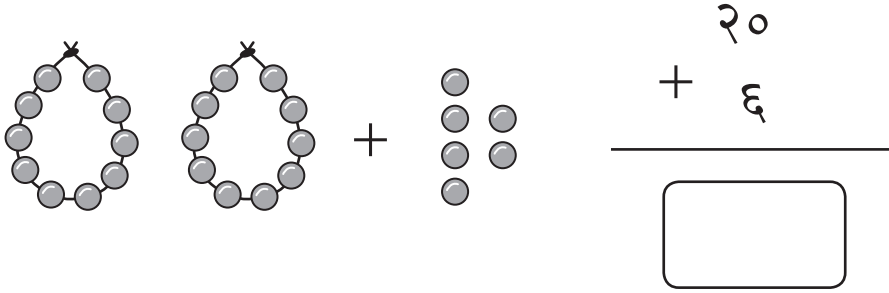
प्र. २ ब) बेरीज कर

$$\begin{array}{r} + ३ \\ ४ \\ \hline \end{array}$$

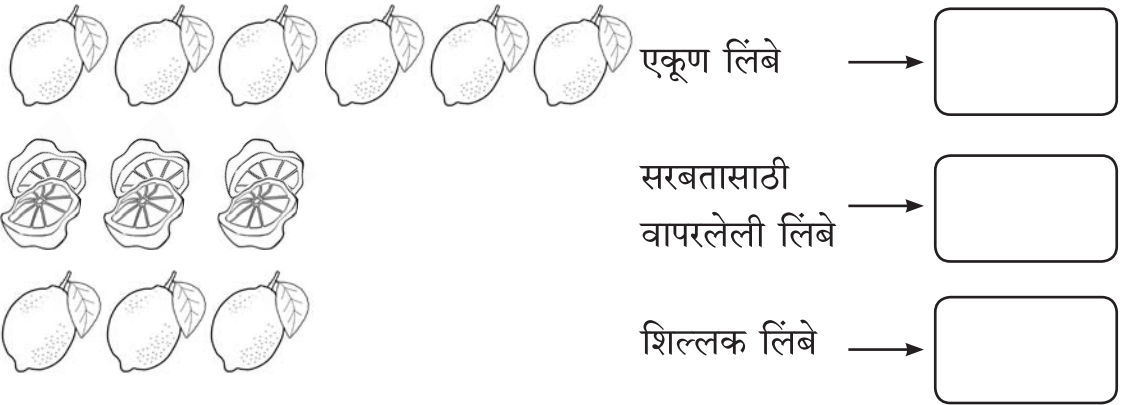
प्र. २ क) रंगविलेल्या मण्यांच्या पुढे न रंगविलेले मणी मोजून एकूण मण्यांची संख्या लिही.



प्र. २ ड)




प्र. ३ अ) सहा लिंबे होते. त्यातील तीन लिंबे सरबतासाठी वापरली. तर किती लिंबे शिल्लक राहिली ?



पायाभूत चाचणी २०१७-१८ : इयत्ता - दुसरी : विषय - गणित : (३)

संच : ब

प्र. ३ ब) उदाहरण वजाबाकीचे चिन्ह वापरून लिही.



प्र. ३ क) वजाबाकी कर.

$$\begin{array}{r} 9 \\ - 2 \\ \hline \square \end{array}$$


प्र. ३ ड) नेहाकडे पाच फुगे होते

त्यातील तीन फुगे फुटले

नेहाकडे किती फुगे शिल्लक राहिले.

$$\begin{array}{r} \square \\ - \square \\ \hline \square \end{array}$$

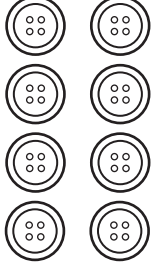
प्र. ४ अ) ढगाच्या वर असलेल्या विमानाला गोल कर.




पायाभूत चाचणी २०१७-१८ : इयत्ता - दुसरी : विषय - गणित : (४)

संच : ब

प्र. ४ ब) जास्त बटणांची संख्या असलेल्या गटाखाली ✓ अशी खूण कर.

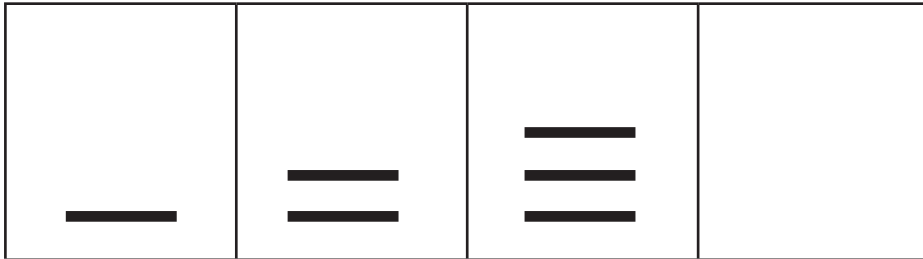


प्र. ५. खालील चित्रात मुलींना आवडणारी जास्वंद, कमळ, गुलाब ही फुले दिली आहेत त्यावरून चित्र पहा आणि उत्तर लिही.



अ) किती मुलींना जास्वंदाची फुले आवडतात?

प्र. ६. आकृतिबंध पूर्ण कर.



पायाभूत चाचणी २०१७-१८ : इयत्ता - दुसरी : विषय - गणित : (५)