

برج کورس 2023 - سماجی علوم - دسویں جماعت - پیشگی جانچ (Pre Test)

جماعت: دسویں (X) نمبرات: 30/.....

طالب علم کا نام: حاضری نمبر:

اسکول کا نام: تاریخ:

س 1 (الف): گروہ سے غیر متعلقہ چیز لکھیے۔ (2)

(1) سرکاری سکہ ، فلم ، قلعہ ، لباس

(2) کتابیں ، اخبار ، زیور ، ڈائری

(ب) BRICS تنظیم میں کون کون سے ممالک شامل ہیں؟ ان ممالک کے نام لکھیے۔ (2)

(1)

(2)

(3)

(4)

س 2 (الف): شمالی مشرقی بھارت میں واقع چار ریاستوں کے نام لکھیے۔ (2)

(1)

(2)

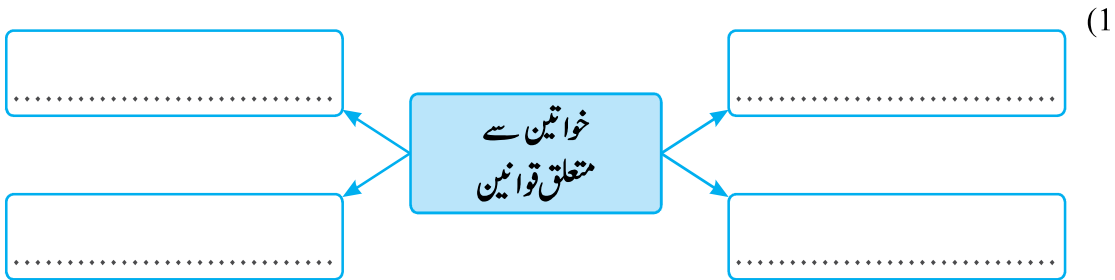
(3)

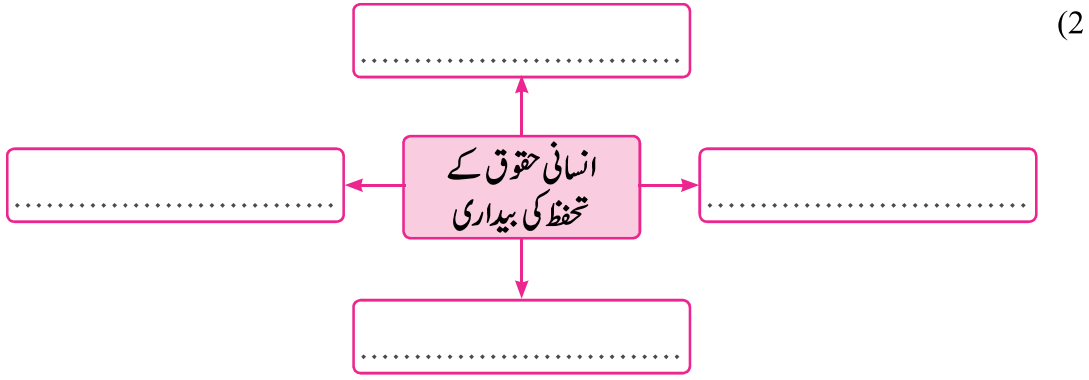
(ب) مندرجہ ذیل مخفف کو مکمل طور پر لکھیے۔ (2)

1) IIT :

2) SCERT :

س 3 (الف): درج ذیل تصوراتی خاکہ مکمل کیجیے۔ (کوئی دو) (4)

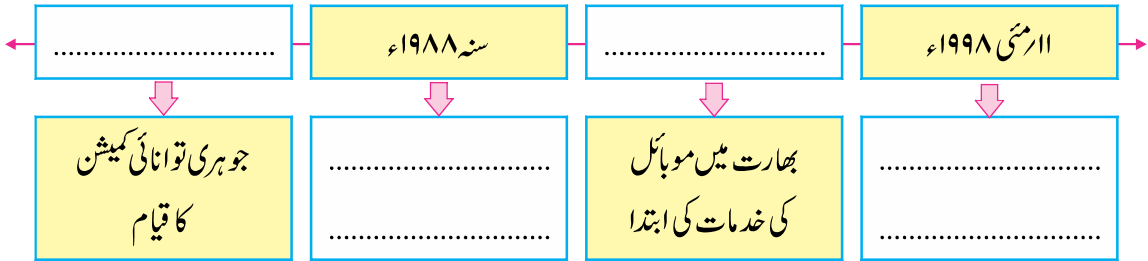




(3)

سرد کے جنگ کے اثرات
.....
.....
.....
.....

(ب) : زمانی خط مکمل کیجیے۔



(5) س 4 : مناسب متبادل چن کر بیانات مکمل کیجیے۔

(1) بھارت کے درمیان سے گزرتا ہے۔

(الف) خطِ سرطان (ب) خطِ استوا (ج) خطِ جدی (د) قطب

(2) مندرجہ ذیل میں سے کوہِ اروالی پہاڑ ہے۔

(الف) ست پڑا (ب) ہمالیہ (ج) مغربی گھاٹ (د) نیگلری

- (3) اجمالی بارش علاقے میں زیادہ ہوتی ہے۔
- (الف) گرم (ب) سرد (ج) مرطوب (د) ان میں سے کوئی نہیں
- (4) مہاراشٹر و گجرات ان دونوں ریاستوں میں تجارت ہوتی ہے۔
- (الف) بین الاقوامی تجارت (ب) داخلی تجارت (ج) خوردہ تجارت (د) تھوک تجارت
- (5) ذرائع حمل و نقل میں سب سے سستا حمل و نقل کا ذریعہ ہے۔
- (الف) بری راستہ (ب) فضائی راستہ (ج) آبی راستہ (د) پائپ لائن)
- (5) س 5 : درج ذیل بیانات صحیح ہیں یا غلط، لکھیے۔

- (1) دیہات کے مقابلے میں شہری علاقے میں آلودگی کم ہوتی ہے۔ (.....)
- (2) رو-رو مال برداری کے لیے ہوائی راستے کی ضرورت نہیں ہوتی۔ (.....)
- (3) درجہ حرارت بتانے کے لیے نقطی نقشے کا استعمال کیا جاتا ہے۔ (.....)
- (4) سایہ باراں کے علاقے میں بارش کا تناسب زیادہ ہوتا ہے۔ (.....)
- (5) سبزی فروخت کرنا یہ غیر مرئی تجارت ہے۔ (.....)

- (5) س 6 : درج ذیل عناصر کو دنیا کے نقشے کے خاکے میں بتائیے۔
- (1) خط استوا (2) براعظم افریقہ (3) بھارت
- (4) براعظم ایشیا (5) جنوبی امریکہ