

برج کورس 2023 - جنرل سائنس - چھٹی جماعت - پیشگی جانچ (Pre Test)

جماعت: چھٹی (VI) کل نمبرات: ۳۰

طالب علم کا نام: حاضری نمبر:

اسکول کا نام: تاریخ:

س 1 : مناسب الفاظ کی مدد سے خالی جگہ پُر کیجیے۔ (05.95A.05) (5)

- (1) زمین کو سے روشنی ملتی ہے۔ (چاند، سورج، سیارے، ستارے)
- (2) زمین کا تقریباً حصہ پانی سے گھرا ہوا ہے۔ $(\frac{1}{3}, \frac{2}{3}, \frac{3}{3}, \frac{4}{3})$
- (3) وٹامن کی کمی کی وجہ سے رات کا اندھا پن ہوتا ہے۔ (اے، بی، سی، ڈی)
- (4) کثیر منزلہ عمارت بناتے وقت خصوصاً اشیا کا استعمال کرتے ہیں۔
 (الف) ریت / کونکر / سیمنٹ / اینٹ
 (ب) سیمنٹ / اینٹ / لکڑی / لوہا
 (ج) لوہا / سیمنٹ / ریت / اینٹ
 (د) لوہا / پلاسٹک / ریت / اینٹ
- (5) پیاز، لہسن، آلو، ادراک بصلے ہیں یعنی وہ نباتات کے کا حصہ ہیں۔
(جڑ، تنہ، پتے)

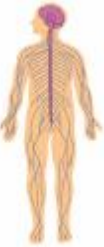
س 2 : مندرجہ ذیل گروپ میں متفرق جز کو پہچان کر اس کے اطراف چوکون بنائیے۔ (05.95A.05) (4)

- (1) ناک توڑا، مینڈک، سانپ، چڑیا
- (2) آم، امرود، پیاز، آملہ
- (3) پاڑ، دودھ، اچار، پیڑی
- (4) چھانچھ، پانی، چائے، شکر



س 3 : ایک لفظ میں جواب لکھیے۔ (05.95A.06) (4)

- (1) 'برف' یہ شے کی کون سی حالت دکھاتا ہے؟
.....
- (2) فلوجیسی بیماریاں کس کے ذریعے پھیلتی ہیں؟
.....
- (3) توانائی کا کبھی نہ ختم ہونے والا سب سے بڑا ذریعہ کون سا ہے؟
.....
- (4) ہاضمی نظام میں کھانے کو ہضم کرنے میں مدد کرنے والا مائع کون سا ہے؟
.....

س 4 : دیے گئے عضوی نظام کو پہچان کر اس کے اہم اعضا کے نام لکھیے۔ (05.95A.06) (2)


<p>(2)</p> <p>.....</p> <p>.....</p> <p>.....</p> <p>.....</p> <p>.....</p>		<p>(1)</p> <p>.....</p> <p>.....</p> <p>.....</p> <p>.....</p> <p>.....</p>
---	---	---

س 5 : درج ذیل اشیاء سے کون سے غذائی اجزاء ملتے ہیں، لکھیے۔ (05.95A.02) (2)

	
<p>(2)</p> <p>.....</p> <p>.....</p> <p>.....</p>	<p>(1)</p> <p>.....</p> <p>.....</p> <p>.....</p>

س 6 : دیے گئے منظر کا مشاہدہ کر کے جواب لکھیے۔ (05.95A.08) (05.95A.10) (3)

(1) پانی کو آلودہ کرنے والے کون کون سے عوامل تصویر میں نظر آ رہے ہیں؟



(2) پانی کی آلودگی کو روکنے کے لیے احتیاطی تدابیر لکھیے۔

.....

.....

.....

.....

.....

.....

(3) پانی کی آلودگی کو روکنے کے لیے ایک نعرہ لکھیے۔

(2) س 7 : درج ذیل تصویروں کو پہچان کر خطوں کے نام لکھیے۔ (05.95A.13)



(4) س 8 : ایسا کیوں ہوا؟ (05.95A.06)

(1) گاؤں میں یرقان کی وبا پھیل گئی۔

(2) مہاراشٹر کے کچھ دیہاتوں میں پینے کے پانی کی قلت کا سامنا کرنا پڑتا ہے۔

(4)

س 9 : تو کیا ہوگا، لکھیے۔ (05.95A.09)

(1) پیغام رسانی کا نظم بند ہو جائے۔

.....
.....
.....

(2) زمین کے جنگلات ختم ہو جائے۔

.....
.....
.....