

برج کورس ۲۰۲۳ء - ریاضی - دوسری جماعت - پیشگی جانچ (Pre Test)

۲۰

کل نمبرات:


جماعت: دوسری (II)

طالب علم کا نام: حاضری نمبر:


اسکول کا نام: تاریخ:

(2)

سوال ۱: چوکون کی تصویروں کو گنواور صحیح عدد کے گرد دائرہ بناؤ۔



طوطا ۷ ۸ ۹ ۵



آم ۲ ۴ ۵ ۸

(1)

سوال ۲: نیچے دیے ہوئے دو عددوں کے بیچ کا عدد لکھو۔

۲۹		۳۱
----	--	----

(1)

سوال ۳: نیچے دیے ہوئے عدد سے پہلے آنے والا فوری عدد اور بعد میں آنے والا فوری عدد لکھو۔

	۶۹	
--	----	--

(4)

سوال ۴: نیچے دیا ہوا عددی سلسلہ پورا کرو۔

	۶				۱۰
	۷۲			۷۵	

(1)

سوال ۵: دیے ہوئے عدد کو دہائی اور اکائی کی صورت میں لکھو۔

تصویر	عدد	دہائی	اکائی
	۳۸		


سوال ۶ : ترتیب وار آنے والا عدد لکھو۔

(2)

	۲۴						
	۹۲						

سوال ۷ : جمع کرو۔


(2)



سوال ۸ : صدام کے پاس ۳ کھریا تھے۔ شبنم نے اسے ۴ کھریا اور دیے۔ اب صدام کے پاس کل کتنے کھریا ہو گئے؟

(2)

سوال ۹ : تفریق کرو۔



سوال ۱۰ : شکلیہ کے پاس ۶ قلم ہیں اور عقیلہ کے پاس ۴ قلم ہیں تو شکلیہ کے پاس عقیلہ کے مقابلے کتنے قلم زیادہ ہیں؟ سرگرمی مکمل کر کے حل کرو۔

	[]
-	[]
	[]

شکلیہ کے پاس قلم

عقیلہ کے پاس قلم

شکلیہ کے پاس زیادہ قلم

سوال ۱۱ : لمبی جھاڑو کے سامنے کے چوکون میں (✓) کا نشان لگاؤ۔

(1)




سوال ۱۲ : تواتر کی توسیع کرو۔

(1)



سوال ۱۳ : تمہارے آس پاس نیچے کی شکل والی چیزوں کے نام لکھو۔

(1)

شکل	چیزوں کے نام


سوال ۱۴ : دیے ہوئے سکوں کو استعمال کر کے دی ہوئی رقم کو الگ طریقے سے تیار کرو۔
(متبادل ۱ حل کر کے دکھایا گیا ہے)

(1)

سکے	  
	متبادل ۱ متبادل ۲
رقم ۱۰ روپے	 

سوال ۱۵ : منگل اور جمعرات کے بیچ میں کون سا دن آتا ہے، اسے (✓) کا نشان لگاؤ۔

(1)

