

सेतू अभ्यास : गणित – इयत्ता दुसरी : पूर्व चाचणी

इयत्ता : दुसरी


एकूण गुण :

२०


विद्यार्थ्यांचे नाव : हजेरी क्र. :

शाळेचे नाव : दिनांक :

प्र. १) चौकटींतील चित्रे मोज आणि योग्य संख्येभोवती गोल कर. (२ गुण)



२ ४ ५ ८ आंबे



७ ८ ९ ५ पक्षी

प्र. २) खाली दिलेल्या दोन संख्यांच्या मधली संख्या लिही. (१ गुण)

२९	<input type="text"/>	३१
----	----------------------	----

प्र. ३) खाली दिलेल्या संख्येच्या लगतची आधीची व लगतची नंतरची संख्या लिही. (१ गुण)

<input type="text"/>	६९	<input type="text"/>
----------------------	----	----------------------

प्र. ४) खालील क्रमवार संख्या तोरण पूर्ण कर. (२ गुण)

<input type="text"/>	६	<input type="text"/>	<input type="text"/>	<input type="text"/>	१०
<input type="text"/>	७२	<input type="text"/>	<input type="text"/>	७५	<input type="text"/>


प्र. ५) खालील संख्या दशक व एकक रूपात लिही. (१ गुण)

चित्र	संख्या	दशक	एकक
	३८	<input type="text"/>	<input type="text"/>

प्र. ६) क्रमाने येणाऱ्या संख्या लिही. (२ गुण)


	२४						
	९२						

प्र. ७) बेरीज कर. (२ गुण)



प्र. ८) सदूकडे ३ खडू होते. मधूने त्याला आणखी ४ खडू दिले. आता सदूकडे एकूण किती खडू झाले? (१ गुण)

प्र. ९) वजाबाकी कर. (२ गुण)



प्र. १०) साईकडे ६ पेन आहेत व जाईकडे ४ पेन आहेत, तर साईकडे जाईपेक्षा किती जास्त पेन आहेत? कृती पूर्ण करून सोडव. (१ गुण)

	<input type="text"/>
-	<input type="text"/>
	<input type="text"/>

साईकडील पेन

जाईकडील पेन

साईकडील जास्तीचे पेन

प्र. ११) लांब झाडूसमोरील चौकटीत (✓) अशी खूण कर. (१ गुण)



प्र. १२) आकृतिबंधाचा विस्तार कर. (१ गुण)



प्र. १३) खालील आकाराच्या तुझ्या परिसरात आढळणाऱ्या वस्तूंची नावे लिही. (१ गुण)

आकार	वस्तूंची नावे

प्र. १४) दिलेली रक्कम, दिलेली नाणी वापरून वेगळ्या पद्धतीने तयार कर. (पर्याय १ सोडवून दाखवला आहे.) (१ गुण)

नाणी			
	पर्याय १	पर्याय २	
रक्कम १० रुपये			

प्र. १५) मंगळवार आणि गुरुवार यांमध्ये खालीलपैकी कोणता वार येतो त्याला (✓) अशी खूण कर. (१ गुण)

