

برج کورس 2023 - سائنس اور ٹیکنالوجی (حصہ-1) - دسویں جماعت - بعد کی جانچ (Post Test)

حاصل کردہ نمبرات:

کل نمبرات: 15

جماعت: دسویں (X)

طالب علم کا نام: حاضری نمبر:

اسکول کا نام: تاریخ:

ہدایات: (1) تمام سوالات حل کرنا لازمی ہے۔ (2) بائیں جانب قوس میں درج عدد نشانات کو ظاہر کرتے ہیں۔

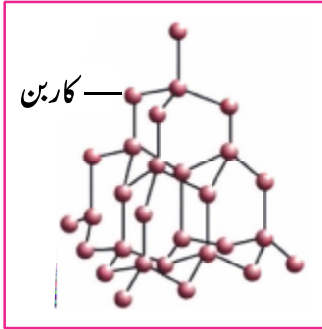
س 1: درج ذیل سوالات حل کیجیے۔ (8)

(1) ذیل کی شکل میں دکھائی گئی سرگرمی نیوٹن کے رفتار سے متعلق کس اصول پر مبنی ہے؟ لکھ کر واضح کیجیے۔

.....
.....
.....
.....



(2) ذیل میں دکھائی گئی کاربن کے جوہروں کی ترتیب کاربن کے کس بہروپ کی ہے؟ اسے پہچان کر اس کی خصوصیات لکھیے۔

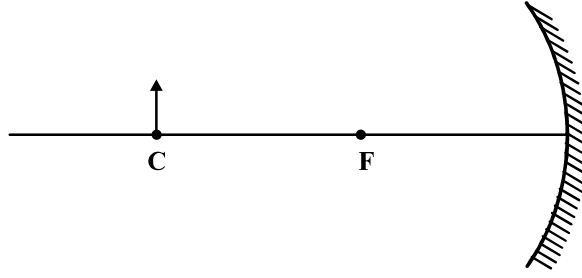


.....
.....
.....
.....

(3) درج ذیل جدول مکمل کیجیے۔

فیئالفتھیلین	میٹھائیل آرینج	لٹمس		اشیا
		لال	نیلا	
بے رنگ	گلابی	لال	تیزاب
.....	نیلا	اساس

4) مقعر آئینے کے سامنے جسم مرکز انحناء پر موجود ہو تو عکس کا مقام، عکس کی نوعیت اور عکس کی جسامت درج ذیل شکل مکمل کر کے واضح کیجیے۔



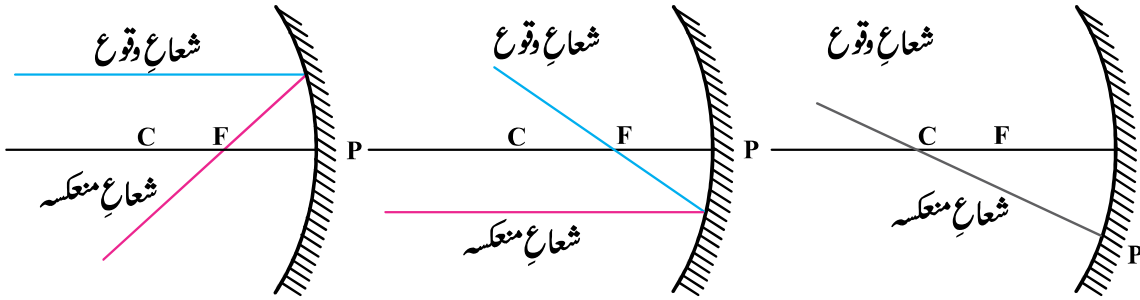
.....

.....

.....

.....

س 2 : درج ذیل شکل کا مشاہدہ کر کے شعاعی خاکہ بنانے کے قوانین لکھیے۔ (3)



.....

.....

.....

.....

.....

.....

.....

.....

(4) س 3 : ISRO کے ذریعے دانغے گئے مصنوعی سیاروں (سیتلائٹ) کے معلق معلومات کا خاکہ مکمل کیجیے۔

..... : سیتلائٹ سیریز : : استعمال : : : : سیتلائٹ سیریز : : استعمال : : :
بھارتی خلائی تحقیقی ادارہ (اسرو) Indian Space Research Organisation (ISRO) بنگلورو	
..... : سیتلائٹ سیریز : : استعمال : : : : سیتلائٹ سیریز : : استعمال : : :