

## सेतू अभ्यास : सामान्य विज्ञान – इयत्ता सहावी : उत्तर चाचणी

इयत्ता : सहावी

प्राप्त गुण :

एकूण गुण : ३०

विद्यार्थ्यांचे नाव : .....

हजेरी क्र. : .....

शाळेचे नाव : .....

दिनांक : .....

सूचना : 1) सर्व प्रश्न सोडविणे आवश्यक आहे.

2) उजवीकडील कंसातील अंक गुण दर्शवितात.

प्र. 1) रिकाम्या जागी योग्य पर्याय निवडून लिहा. (05.95A.05) (5 गुण)

- 1) सूर्य हा ..... आहे. (ग्रह, तारा, उपग्रह, लघुग्रह)
- 2) ..... हा वायू सूर्यापासून येणारी अतिनील किरणे शोषून घेतो. (ऑक्सिजन, कार्बन डाय ऑक्साईड, ओझोन, हायड्रोजन)
- 3) बटाट्यात ..... हा अन्नघटक असतो. (मेद, जीवनसत्त्व, पिष्ट, तंतूमय पदार्थ)
- 4) ..... हा न संपणारा ऊर्जा स्रोत आहे. (पेट्रोल, कोळसा, पवन ऊर्जा, खनिज तेल)
- 5) गाजर, बीट, मुळा या वनस्पती अन्नसाठा ..... मध्ये करतात. (मूळ, खोड, पान)

प्र. 2) खालील गटातील वेगळा शब्द ओळखा. (05.95A.05) (4 गुण)

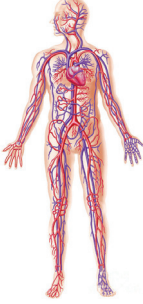
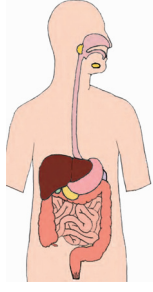
- 1) वाळविणे, थंड करणे, उकळणे, भिजविणे. ....
- 2) गाजर, बीट, मुळा, आंबा .....
- 3) लाळग्रंथी, ग्रासिका, नाकपुड्या, जठर. ....
- 4) सौर ऊर्जा, सीएनजी, पवन ऊर्जा, जल ऊर्जा. ....

प्र. 3) एका शब्दात उत्तरे लिहा. (05.95A.06) (4 गुण)

- 1) उत्तर आशियातील प्रदेशातून सातारा जिल्ह्यात स्थलांतर करणारा पक्षी कोणता? .....
- 2) ज्वारीमध्ये कोणता मुख्य अन्नपदार्थ जास्त प्रमाणात आढळतो? .....
- 3) पृथ्वीपासून सर्वात जवळचा तारा कोणता? .....
- 4) सोलापूर हा जिल्हा कोणत्या प्रकारचे वस्त्र निर्मितीसाठी प्रसिद्ध आहे? .....

प्र. 4) पुढील इंद्रियसंस्थांची नावे व त्यातील महत्त्वाच्या अवयवांची नावे लिहा. (05.95A.06)

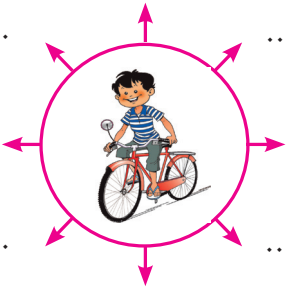
(2 गुण)

	अ) ..... ..... ..... ..... .....		ब) ..... ..... ..... ..... .....
---	--	---	--

प्र. 5) सायकल वापराचे विविध फायदे लिहा. (05.95A.10)

(2 गुण)

.....	.....
.....	.....
.....	.....
.....	.....
.....	.....



प्र. 6) असे का घडले? (05.95A.06)

(4 गुण)

1) भारतीय चित्ते नामशेष झाले आहेत.

.....  
.....

2) उघड्यावर ठेवलेले अन्न खराब झाले.

.....  
.....

प्र. 7) तर काय होईल ते लिहा. (05.95A.09)

(4 गुण)

1) पृथ्वीवरील पारंपरिक ऊर्जा स्रोत संपले.

.....  
.....

2) शेतीसाठी पारंपरिक पद्धतीनेच पाण्याचा वापर केला.

.....  
.....

प्र. 8) खालील चित्राचे निरीक्षण करून उत्तरे द्या. (05.95A.08) (05.95A.09)

(3 गुण)



1) वरील चित्रात कोणकोणते सामाजिक प्रश्न दाखविले आहेत ?

.....  
.....

2) वरील चित्रातील सामाजिक प्रश्न निर्माण होण्यामागील कारणे लिहा.

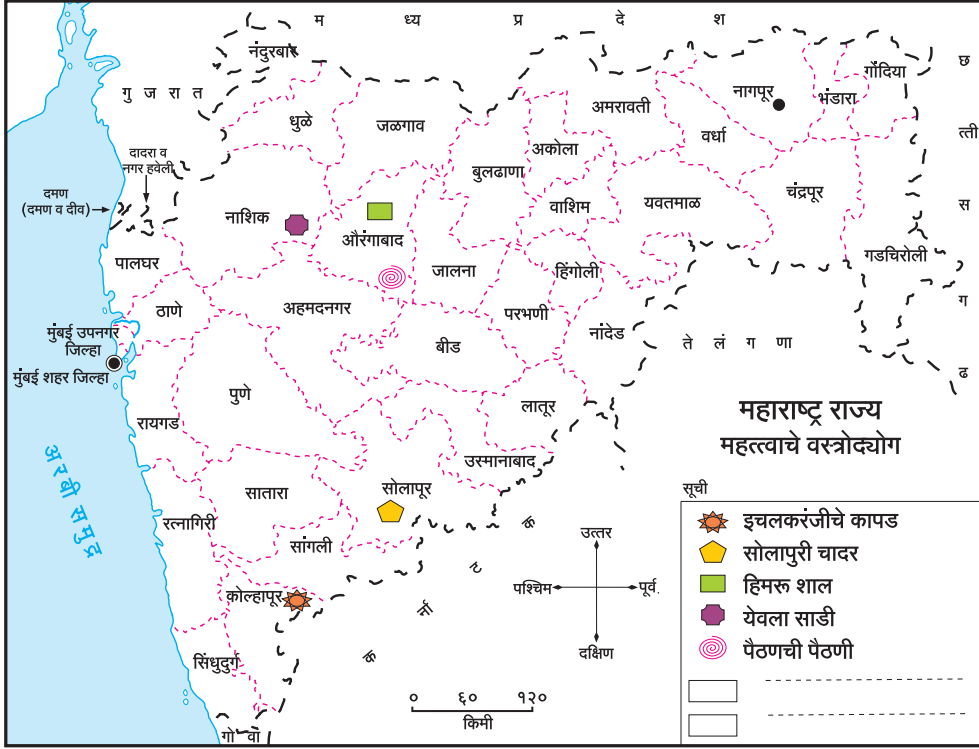
.....  
.....

3) वरील सामाजिक प्रश्नांसंदर्भात समाज प्रबोधनासाठी दोन घोषवाक्ये तयार करून लिहा.

- i) .....
- ii) .....

प्र. 9) खालील नकाशाचे निरीक्षण करून विचारलेल्या प्रश्नांची उत्तरे लिहा. (05.95A.13)

(2 गुण)



1) हिमरू शाल व पैठणीसाठी प्रसिद्ध असलेल्या जिल्हाचे नाव लिहा.

.....

2) नाशिक जिल्हा कोणत्या वस्त्रासाठी प्रसिद्ध आहे?

.....