

सेतू अभ्यास : गणित – इयत्ता तिसरी : उत्तर चाचणी

इयत्ता : तिसरी

एकूण गुण : 20

विद्यार्थ्यांचे नाव : हजेरी क्र. :

शाळेचे नाव : दिनांक :

प्र. १) संख्या अंकांत लिही. (२ गुण)

१) सदतीस :


२) एकोणसाठ :

प्र. २) संख्या अक्षरांत लिही.

१) ३९ :

२) ५५ : (२ गुण)

प्र. ३) १०-१० चे गट कर. किती गट तयार झाले? (२ गुण)



१०-१० चे गट झाले.

प्र. ४) टप्पा ओळखून चौकटीत योग्य संख्या लिही. (२ गुण)

१)

१२	१५		२१	२४
----	----	--	----	----

२)

१५	२०		३०	३५	४०
----	----	--	----	----	----

प्र. ५) बेरीज कर. (२ गुण)

	द	ए
+	३	८
	५	०

	द	ए
+	४	६
	२	८

प्र. ६) वजाबाकी कर.

(२ गुण)

	द	ए		द	ए
-	५	८	-	७	१
	३	१		३	६

प्र. ७) पुढील संख्या चढत्या व उतरत्या क्रमाने लिही.




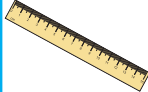
(२ गुण)

४०, ३९, ४१.

चढता क्रम : उतरता क्रम :

प्र. ८) खालील वस्तू विकत घेतल्या तर तू दुकानदाराला किती रुपये देशील ?

(२ गुण)

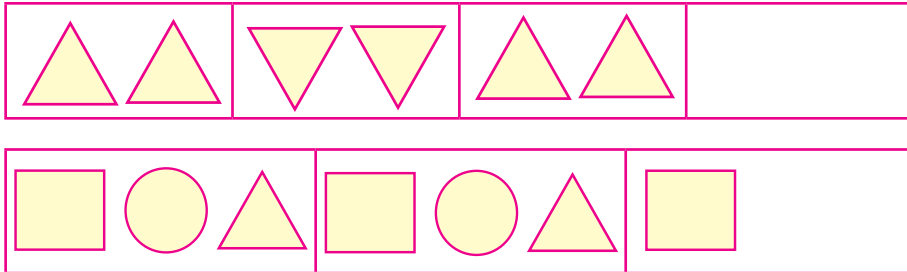
वस्तू				
किंमत	१० रु.	५० रु.	५ रु.	१५ रु.

१) दोन पेन घेतले तर रुपये

२) १ कंपास व २ रबर घेतले तर रुपये




प्र. ९) खालील आकृतिबंध पूर्ण कर.

(२ गुण)



प्र. १०) सर्वात जड वस्तू खालील चौकटीत (✓) खूण कर.

(२ गुण)

१)			
२)	