

## सेतू अभ्यास : गणित – इयत्ता दुसरी : उत्तर चाचणी

इयत्ता : दुसरी

एकूण गुण :

२०

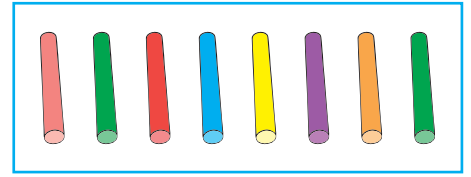
विद्यार्थ्याचे नाव : ..... हजेरी क्र. : .....

शाळेचे नाव : ..... दिनांक : .....

प्र. १) चौकटींतील चित्रे मोज आणि योग्य संख्येभोवती गोल कर. (२ गुण)



३ ५ ८ ४ छव्या



८ १ ९ ५ खड्डू

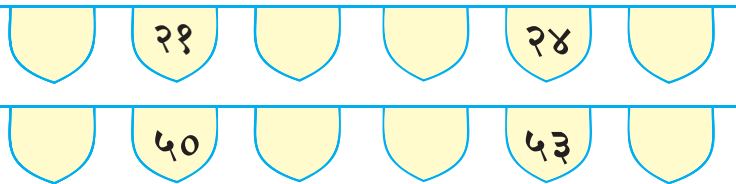
प्र. २) खाली दिलेल्या दोन संख्यांच्या मधली संख्या लिही. (१ गुण)

४८		५०
----	--	----

प्र. ३) खाली दिलेल्या संख्येच्या लगतची आधीची व लगतची नंतरची संख्या लिही. (१ गुण)

	६०	
--	----	--

प्र. ४) खालील क्रमवार संख्या तोरण पूर्ण कर. (२ गुण)



प्र. ५) खालील संख्या दशक व एकक रूपात लिही. (१ गुण)

चित्र	संख्या	दशक	एकक


प्र. ६) क्रमाने येणाऱ्या संख्या लिही.

(२ गुण)

	३९						
	८०						

प्र. ७) बेरीज कर.

(२ गुण)




प्र. ८) राजकडे ५ पेरू होते. तनूने त्याला आणखी ३ पेरू दिले. आता राजकडे एकूण किती पेरू झाले?

(१ गुण)

प्र. ९) वजाबाकी कर.

(२ गुण)



प्र. १०) अमनकडे ८ खडू आहेत व जोयाकडे २ खडू आहेत, तर अमनकडे जोयापेक्षा किती जास्त खडू आहे?

(१ गुण)

-	

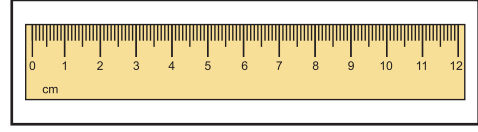
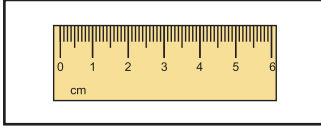
अमनकडील खडू

जोयाकडील खडू

अमनकडील जास्तीचे खडू

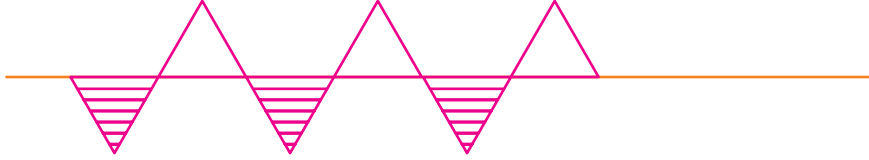
प्र. ११) लांब पट्टीसमोरील चौकटीत (✓) अशी खूण कर.

(१ गुण)



प्र. १२) आकृतिबंधाचा विस्तार कर.

(१ गुण)



प्र. १३) खालील आकाराच्या तुझ्या परिसरात आढळणाऱ्या वस्तूंची नावे लिही.

(१ गुण)

आकार









वस्तूंची नावे



.....

प्र. १४) दिलेली रक्कम, दिलेली नाणी यांचा वापर करून वेगळ्या पद्धतीने तयार कर.  
(पर्याय १ सोडवून दाखवला आहे.)

(१ गुण)

नाणी	  		
	पर्याय १	पर्याय २	
रक्कम ५ रुपये	    		

प्र. १५) शुक्रवार आणि रविवार यांमध्ये खालीलपैकी कोणता वार येतो त्याला (✓) अशी खूण कर.

(१ गुण)

